

# 期末综合素质测评(三)

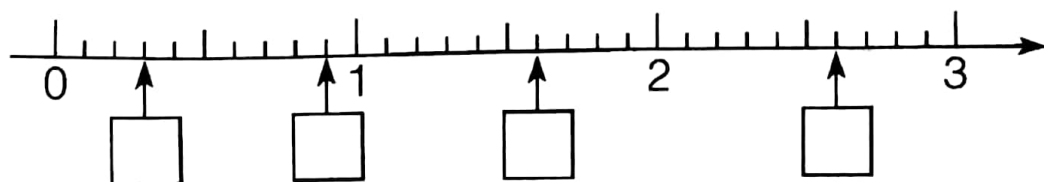
(时间: 90分钟 总分: 100分)

题号	一	二	三	四	五	六	总分	等级
得分								

同学们,你愿意挑战自己吗? 用心做完这些试题吧。老师相信每个人都会有很多收获的!

## 一、我会填。(每题 2 分,共 20 分)

- 2015 年 10 月 20 日小刚 11 岁,他是( )年出生的。
- 小云早晨面向太阳,她的左边是( )面,右边是( )面。
- 最小的两位数乘最大的两位数积是( )。
- 拔河比赛从 13:30 开始,到 15:50 结束,活动共进行了( )小时( )分。
- 96 是 6 的( )倍,48 的 6 倍是( )。
- 今年的三月份有( )个星期零( )天。
- 一位数除三位数,商可能是( )位数,也可能是( )位数。
- $348 \div 7$  的商是( )位数。
- 同学们去春游,全班 35 人,每辆车最多坐 9 人,我认为派( )辆车合适。
- 在  里填上正确的小数。



## 二、我当小法官。(对的画“√”,错的画“×”)(8 分)

- 2100 是 4 的倍数,所以 2100 年是闰年。 ( )
- 在有余数的除法里,除数是 9,余数一定小于 9。 ( )

3. 周长相等的两个长方形,其面积一定相等。 ( )
4. 平方米与平方厘米之间的进率是 10000。 ( )
5. 被除数的末尾有 0,商的末尾也可能有 0。 ( )
6. 小刚出生于 1997 年 2 月 29 日。 ( )
7. 0.56 读作零点五十六。 ( )
8. 整数都比小数大。 ( )

三、我会把正确答案的序号填在括号里。(6 分)

1. 600 乘 5 的积的末尾有( )  
A. 2 个零                      B. 3 个零                      C. 4 个零
2. 在除法算式中,0 不能为( )  
A. 被除数                      B. 除数                      C. 商
3.  $471 \div \square$  的商是三位数, $\square$ 里最大的一位数是( )  
A. 4                      B. 5                      C. 6
4. 一个月内最少有( )个星期日。  
A. 4                      B. 5                      C. 3
5. 下面是闰年的是( )  
A. 1949 年                      B. 1985 年                      C. 2024 年
6. 下午 5 时 30 分,用 24 小时计时法表示是( )  
A. 15 时 30 分                      B. 16 时 30 分                      C. 17 时 30 分

四、我会算。(共 24 分)

1. 直接写得数。(6 分)

$24 \times 5 =$	$16 \times 50 =$	$80 \times 90 =$	$0 \div 210 =$
$320 \div 4 =$	$80 \div 2 =$	$45 \times 20 =$	$763 - 249 =$
$10 - 2.5 =$	$4.9 - 3.7 =$	$3.8 + 1.2 =$	$69 \div 3 =$

2. 用竖式计算,并验算。(12 分)

$804 \div 5 =$	$721 \div 7 =$	$901 \div 6 =$
----------------	----------------	----------------

$28 \times 82 =$

$61 \times 16 =$

$1.9 + 12.8 =$

3. 列式计算。(6 分)

(1) 一个数的 8 倍是 816, 这个数是多少?

(2) 最大的两位数的 27 倍是多少?

五、在○里填上“+”“-”“×”或“÷”。(12 分)

$63 \bigcirc 37 = 100$

$99 \bigcirc 9 = 11$

$240 \bigcirc 3 = 80$

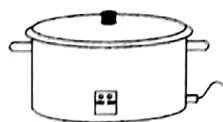
$32 \bigcirc 20 = 640$

$73 \bigcirc 2 = 146$

$88 \bigcirc 8 = 80$

六、我会解决问题。(共 30 分)

1. (6 分)



198 元





9 元



3 元

(1) 买一个  的钱可以买几个  ?

(2)  的价格是  的几倍?

2. 一盘录音带要用 4 小时放完,每小时放 45 米。如果要用 3 小时放完,每小时放多少米? (6 分)

3. 有两个大小一样的长方形,长都是 8 厘米,宽都是 4 厘米。(9 分)

(1) 拼成一个正方形,它的周长是多少?

(2) 拼成一个长方形,它的周长是多少?

(3) 拼成的两个图形,面积相等吗? 各是多少?

4. 完成下面的统计表并回答问题。(9 分)

三年级一班学生喜欢的图书情况统计表

年 月

人数/人 性别	类别	故事书	童话书	小 说
	男	30	32	16
	女	22	30	12
	合 计			

(1) 根据三年级一班学生喜欢图书的情况,你有什么发现?

(2) 从上表的数据中能否判断男生更爱读书? 为什么?

### 期末综合素质测评(三)

一、1. 2004 2. 北 南 3. 990 4. 2 20 5. 16 288 6. 4 3 7. 两 三 8. 两  
9. 4 10. 0.3 0.9 1.6 2.6

二、1.  $\times$  2.  $\checkmark$  3.  $\times$  4.  $\checkmark$  5.  $\checkmark$  6.  $\times$  7.  $\times$  8.  $\times$

三、1. B 2. B 3. A 4. A 5. C 6. C

四、1. 120 800 7200 0 80 40 900 514 7.5 1.2 5 23 2.  $160\cdots\cdots 4$  103  
 $150\cdots\cdots 1$  2296 976 14.7 3. (1) 102 (2) 2673

五、+  $\div$   $\div$   $\times$   $\times$  -

六、1. (1)  $198 \div 9 = 22$ (个) (2)  $198 \div 3 = 66$  2.  $45 \times 4 = 180$ (米)  $180 \div 3 = 60$ (米)

3. (1)  $8 \times 4 = 32$ (厘米) (2)  $8 \times 2 \times 2 = 32$ (厘米)  $4 \times 2 = 8$ (厘米)  $32 + 8 = 40$ (厘米)  
(3)  $8 \times 8 = 64$ (平方厘米)  $8 \times 2 \times 4 = 64$ (平方厘米) 相等